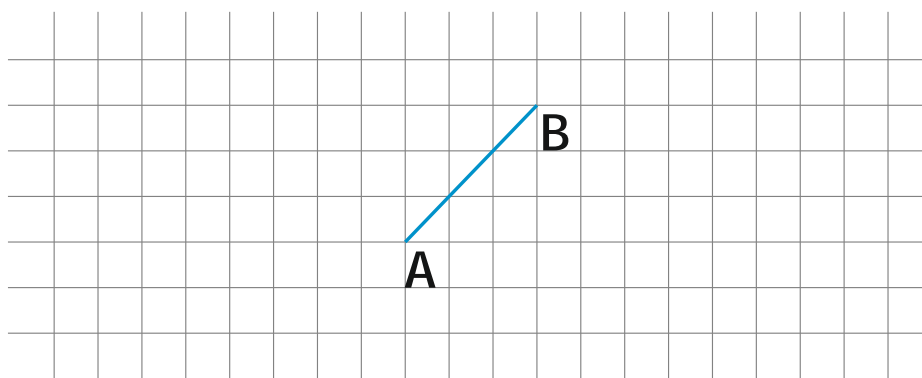


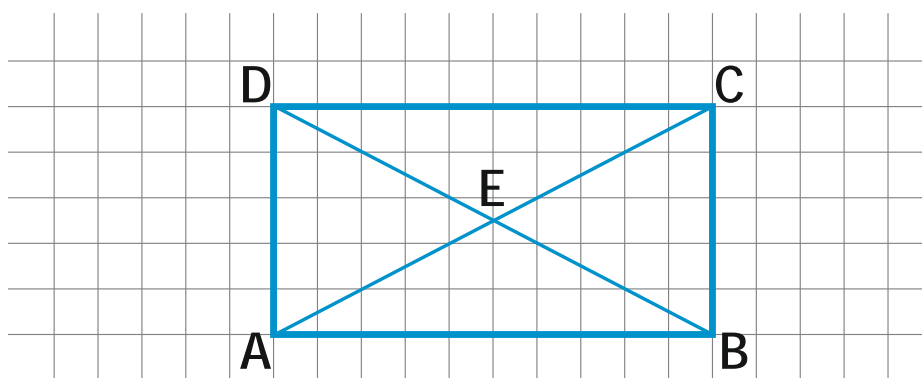
Zadania

1. Ile punktów przecięcia mogą wyznaczyć trzy proste.
Rozważ różne możliwości.

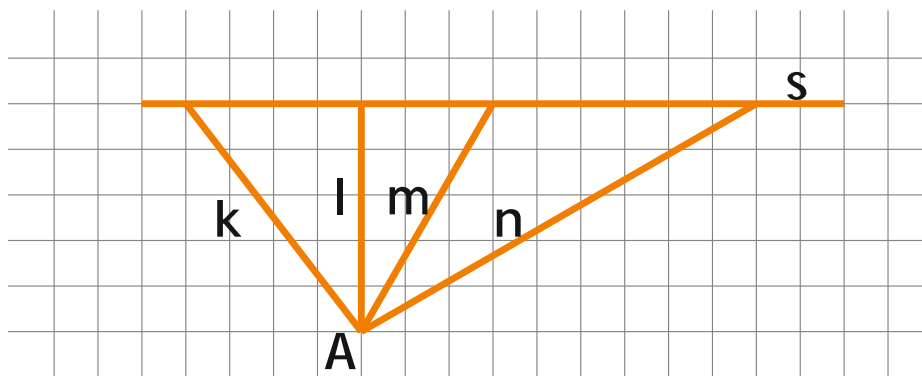
2. Narysuj dwa odcinki równoległe i dwa odcinki prostopadłe do odcinka **AB**



3. Wypisz wszystkie odcinki widoczne na rysunku.



4. Który odcinek przedstawia odległość punktu **A** od prostej **s**.



5. Narysuj prostą **p**. Zaznacz 4 różne punkty, których odległość od prostej **p** równa się **2,5 cm**.

